

**AVALIAÇÃO 1 – PROCESSO SELETIVO 2017/2**

01. Leia a seguir o trecho da crônica *Águas profundas*, de Regina Maria Moraes:

Amarrou o cavalo em uma \_\_\_\_\_, deixando bastante corda para ele poder pastar sossegado. A canoinha estava amarrada no mesmo lugar, sinal que \_\_\_\_\_ estivesse mais ali desde a \_\_\_\_\_ vez em que ele viera **pescar**. Meteu-se dentro dela, impulsionando-a para o meio das águas. O vento soprou ligeiro arrancando-lhe o \_\_\_\_\_, indo deixá-lo preso nos ramos rasteiros de margem. Pensou que não valia a pena ir buscá-lo.

Disponível em: <<http://revistagloborural.globo.com>>. Acesso em: 16 jun. 2017.

Assinale a alternativa que completa as lacunas corretamente:

- a) Árvore – ninguém – última – chapéu
- b) Árvore – ninguém – última – chapéu**
- c) Árvore – ninguém – última – chapéu
- d) Árvore – ninguém – última – chapéu
- e) Árvore – ninguém – ultima – chapéu

02. Leia o trecho a seguir, extraído da crônica *A sopa de nabos*, de Lourenço Diaféria:

[...] Todo sábado de madrugada a turma pulava da cama, bebia um ligeiro café de garrafa térmica e subia numa Kombi estremunhando de sono, \_\_\_\_\_ animada.

Disponível em: <<http://revistagloborural.globo.com>>. Acesso em: 16 jun. 2017.

O conectivo que completa corretamente a lacuna do trecho é:

- a) portanto
- b) aliás
- c) por isso
- d) desse modo
- e) **mas**

03. Leia a tirinha a seguir:



Disponível em: <<http://notaterapia.com.br/2015/11/18/30-anos-de-calvin-e-haroldo-a-tirinha-mais-incrivel-de-bill-watterson/>>. Acesso em: 21 jun. 2017.

Quanto à complementação verbal, podemos dizer que:

- a) No primeiro quadrinho, “ali no chão” é classificado como objeto direto do verbo “ter”.
- b) No segundo quadrinho, “vivo” é usado como objeto direto do verbo “estar”.
- c) No terceiro quadrinho, “nele” é usado como objeto direto do verbo “tocar”.
- d) **No quarto quadrinho, “mãe” é objeto direto da locução verbal “poder virar”.**
- e) No quarto quadrinho, “tudo” é objeto direto do verbo “consertar”.

04. Observe os trechos a seguir, retirados da crônica *O milagre das folhas*, de Clarice Lispector:

- I. **Até que fui obrigada a chegar à conclusão de que sou daqueles que rolam pedras durante séculos, e não daqueles para os quais os seixos já vêm pronto, polido e branco.**

- II. **Mas já me foi tranquilamente explicado que isso até nome tem: cidetismo, capacidade de projetar no campo alucinatório a imagens inconscientes.**
- III. **A incidência da linha de milhares de folhas transformadas em uma única, e de milhões de pessoas a incidência de reduzi-las a mim.**
- IV. **Até que um dia, abrindo a bolsa, encontro entre os objetos a folha seca, engelhada, morta. Jogo-a fora: não me interessa fetiche morto como lembrança.**

LISPECTOR, Clarice. O milagre das folhas. In: SANTOS, Joaquim Ferreira dos. (Org.) *As cem melhores crônicas brasileiras*. São Paulo: Objetiva, 2007.

Marque a alternativa a seguir que indica os itens corretos quanto à concordância nominal:

- a) I, II e III
- b) I e II
- c) **III e IV**
- d) I e III
- e) II e IV

05. Quanto à predicação verbal, os verbos, no português, podem ser classificados como: transitivo direto, transitivo indireto, transitivo direto e indireto ou intransitivo. Com base nessa informação, assinale abaixo, a alternativa em que o verbo da oração é classificado como transitivo indireto:

- a) Ontem, eu apresentei meu novo namorado para os meus pais.
- b) Agradecemos-lhes o convite para o evento da próxima semana.
- c) Maria nasceu, ontem, na cidade de São João da Boa Vista.
- d) **Carolina gosta muito de plantar alimentos orgânicos para a população.**
- e) Choveu muito na fazenda durante toda a semana passada.

06. Analise as proposições e seus trechos destacados a seguir:

- 1. O agricultor afirmou **precisar de ajuda para colheita.**

2. Olhávamos as crianças **comendo as frutas do quintal**.
3. **Chegando em casa**, começou a chuva forte.

Sobre as proposições acima, podemos afirmar que:

- I) As orações em destaque são classificadas como orações coordenadas assindéticas, porque são independentes e não necessitam de conectivos para ligá-las a outras orações.
- II) As orações em destaque são classificadas como orações subordinadas reduzidas, pois não estão conectadas a outras orações por conjunções e os verbos estão nas suas formas nominais (particípio, gerúndio e infinitivo).
- III) A oração em destaque no item 1 é classificada como oração subordinada substantiva objetiva direta reduzida de infinitivo.
- IV) As orações destacadas nos itens 2 e 3 são classificadas como orações subordinadas adverbiais reduzidas de particípio, sendo que a do item 2 é adverbial de modo e a do item 3 é adverbial de tempo.

Estão corretas as afirmações:

- a) I, III e IV
- b) I e IV
- c) **II e III**
- d) II e IV
- e) II, III e IV

07. Leia o trecho do texto *Cotidiano de Exceção*, de Eliane Brum, a seguir:

O sobressalto encarnou-se nos dias. Não é mais inerente ao cotidiano, mas o próprio cotidiano. Temos vivido no Brasil (e acredito que em boa parte do mundo) aos espasmos. Um espasmo, outro espasmo, mais um espasmo.

Disponível em:

<[http://brasil.elpais.com/brasil/2017/05/29/opinion/1496068623\\_644264.html](http://brasil.elpais.com/brasil/2017/05/29/opinion/1496068623_644264.html)>.

Acesso em: 19 jun. 2017.

Com base na leitura, marque a alternativa que indica quantas orações compõem o trecho:

- a) 3
- b) 4
- c) 5
- d) 6
- e) 7

08. Para responder à questão a seguir, analise a seguinte oração:

O controle é, desde sempre, **uma ilusão**.

Assinale a alternativa que indica corretamente a função do termo destacado dentro da oração:

- a) É um objeto direto, porque está complementando o verbo “ser” sem uma preposição.
- b) É um complemento nominal, porque está complementando o advérbio “sempre”.
- c) É um predicativo do sujeito, pois está complementando o verbo de ligação “ser”.
- d) É um objeto direto, pois liga-se ao verbo “ser” por meio do artigo indefinido “uma”.
- e) É um predicativo do objeto, pois complementa o sujeito “controle”.

09. O objeto direto, em algumas situações da fala, necessita de uma preposição para evitar ambiguidade ou para produzir determinados efeitos de sentido. Tendo isso em mente, marque a alternativa em que o uso de objeto direto preposicionado é essencial para evitar problema de ambiguidade:

- a) As religiões cristãs glorificam a Jesus.
- b) Ninguém compreende a nós.

- c) Carolina comeu do chocolate meio amargo.
- d) Júlia cumprimentou a todos que estavam na sala.
- e) **E, então, devorou o leão à zebra.**

10. Leias as proposições a seguir:

- I. A cidade donde vim tinha muitas características do meio rural.
- II. A casa aonde moro tem um quintal bem grande. Lá, planto minhas verduras.
- III. A fazenda onde vou passar as minhas férias pertence a minha tia.

Em relação ao uso dos pronomes relativos “onde”, “aonde” e “donde” nas proposições apresentadas anteriormente, assinale a alternativa correta:

- a) O uso de “donde” na proposição I está errado. O correto seria “onde”, já que o pronome relativo está expressando uma ideia de permanência, como nos enunciados II e III.
- b) O uso de “donde” na proposição I está correto. Já em II e III, o uso está equivocado. Em II, o correto seria o uso de “onde”, que indica movimento e em III, “aonde”, que indica permanência.
- c) O uso do pronome relativo “aonde” está correto na proposição II, que indica movimento. Em I e III, o correto seria o uso também de “aonde”, que expressam direção e, ao mesmo tempo, permanência.
- d) **O uso de “donde” na alternativa I está correto. Já em II e III, o uso está equivocado. Em II, o correto seria o uso de “onde”, que indica permanência e em III, “aonde”, que indica movimento.**
- e) O uso do pronome relativo “onde” está correto na proposição III, que indica permanência. Já em I, o correto seria “onde”, que indica permanência e em II, o correto seria “donde”, que expressa direção.

11. Segundo pesquisa, em determinado estado brasileiro existem 45.631 trabalhadores formalmente cadastrados atuando na atividade econômica agropecuária. Desse universo de trabalhadores, 3.625 possuem ensino médio incompleto e 12.699 concluíram o ensino médio. Aproximadamente 4% do total compõem o subconjunto dos trabalhadores com educação superior (educação superior completa, educação superior incompleta, mestrado completo e doutorado completo), enquanto cerca de 59% compõem o subconjunto dos que

se encaixam na categoria do ensino fundamental (cursaram até o 5º ano do Ensino Fundamental, interromperam a escolarização entre o 6º e o 9º ano do Ensino Fundamental ou concluíram o Ensino Fundamental).

Disponível em:

<[http://fiesc.com.br/sites/default/files/medias/sc\\_em\\_dados\\_site\\_correto.pdf](http://fiesc.com.br/sites/default/files/medias/sc_em_dados_site_correto.pdf)>.

Acesso em: 15 jun. 2017. (Adaptado)

Com base nesses dados, é possível inferir que o número de trabalhadores analfabetos formalmente registrados na atividade agropecuária nesse estado é de, aproximadamente:

- a) 557
- b) 699
- c) 594
- d) 287
- e) 602

12. Determine a razão de uma progressão aritmética cujo elemento  $a_1$  vale 17 e a soma dos 8 primeiros elementos vale 248. Em seguida, assinale a alternativa que corresponde à resposta correta.

- a) 3
- b) 4
- c) 2
- d) 5
- e) 7

13. Seja  $f(x) = -2x^2 - 5x + 3$  e  $g(x) = 3x - 4$ , para que valores de  $x$   $f(g(x)) = 0$ ? Assinale a alternativa que indica a resposta correta.

- a)  $-\frac{1}{3}$  e 0,5
- b)  $\frac{1}{3}$  e  $-0,5$
- c)  $\frac{1}{3}$  e 1,5
- d)  $\frac{1}{3}$  e 0,5

e)  $\frac{1}{3} e - 1,5$

14. Um estudo revela que, em 2014, 233.044 unidades consumidoras de energia elétrica na classe rural foram responsáveis pelo consumo de 5,9% da energia distribuída naquele ano (aproximadamente 24 milhões de MW/h) em um determinado estado brasileiro.

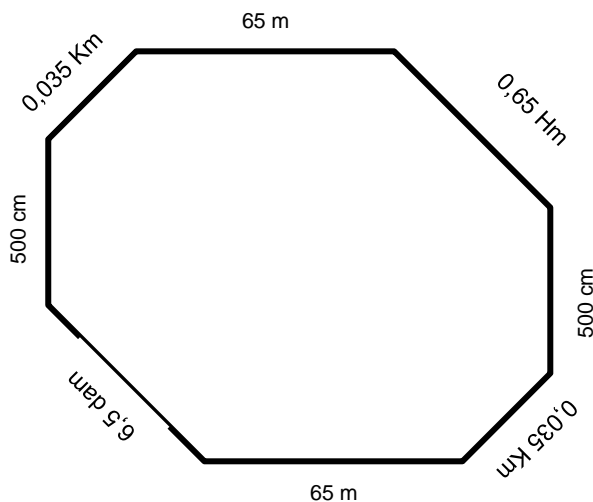
Disponível em:

<[http://fiesc.com.br/sites/default/files/medias/sc\\_em\\_dados\\_site\\_correto.pdf](http://fiesc.com.br/sites/default/files/medias/sc_em_dados_site_correto.pdf)>.

Acesso em: 15 jun. 2017. (Adaptado)

A figura abaixo representa uma região na qual um determinado produtor rural deseja instalar uma cerca elétrica de modo a evitar a fuga de animais do seu pasto. Considere:

- A empresa “A” informou que cobraria R\$ 125,00 em materiais por metro linear, acrescido de um custo de mão de obra no valor de R\$ 85,00 a cada 100 metros lineares ou fração.
- A empresa “B” informou cobrar R\$ 130,00 por metro linear em materiais e R\$ 65,00 a cada 50 metros lineares ou fração (lembrete: o produtor deverá contratar a empresa que oferecer o menor custo).



Assinale a alternativa que contém o valor do melhor investimento a ser realizado pelo produtor, de acordo com a empresa contratada:



- a) R\$ 42.840,00, contratando a empresa "B"
- b) R\$ 44.655,00, contratando a empresa "A"
- c) R\$ 4.284,00 contratando a empresa "A"
- d) R\$ 4.465,50 contratando a empresa "B"
- e) R\$ 42.840,00 contratando a empresa "A"**

15. Assinale a alternativa que contém o valor de  $x \neq 0$  que satisfaz a igualdade  $(a^x)^{x-16} = 1$

- a) 4
- b) -4
- c) -16
- d) 16**
- e) 8

16. Um determinado insumo teve seu preço final aumentado em 10% acima da inflação, verificada entre abril de 2016 e abril de 2017. Considerando que a inflação, segundo dados oficiais, tenha sido de 4%, e que o custo desse insumo, no período citado, era de R\$ 15,00 por unidade produzida, qual seria o percentual aplicado ao produto final para que o produtor conseguisse absorver o novo custo?

- a) 15%
- b) 15,60%
- c) 17,16%
- d) 14,4%**
- e) 10%

17. Sabendo que a soma de dois números naturais é igual a 55 e que o dobro do primeiro menos o triplo do segundo tem como resultado 10, assinale a alternativa que apresenta esses números em ordem crescente.

- a) 10; 45.
- b) 22; 33.
- c) 19; 46.
- d) 21; 34.

e) 20; 35.

18. Um criador de porcos numerou os filhotes de duas de suas matrizes, construindo dois conjuntos de números inteiros representados pelos seguintes intervalos: conjunto dos filhotes da matriz “A”, representado pelo intervalo  $]7; 15]$ , e conjunto dos filhotes da matriz “B”, representado pelo intervalo  $[7; 10]$ . Assinale a alternativa que representa o conjunto resultante de  $A - B$ .

a)  $[11; 15]$

b)  $]11; 15]$

c)  $]10; 15[$

d)  $[11; 15[$

e)  $]11; 15[$

19. Para que a equação  $16^{3x+2} \times 8^{x+1} \times \left(\frac{1}{8}\right)^x = 4^{x-10}$  seja verdadeira, é correto afirmar que:

a)  $X < -3$

b)  $X > -3$

c)  $-3 < x < 3$ .

d)  $3 < x > -3$ .

e)  $X = 3$

20. Um pecuarista deseja antecipar o pagamento de um título no valor de R\$ 5.000,00, cujo vencimento estava originalmente previsto para 30/10. Assim, ele efetua o pagamento em 25/07, ou seja, o pagamento será antecipado em 97 dias. Nesse caso, o agente financeiro concede um desconto de 3% ao mês usando o método do desconto simples comercial. Assinale a alternativa que contém o valor líquido a ser pago pelo pecuarista.

Lembrete:

$$V_d = V_n \times i \times n,$$

onde  $V_d = \text{Valor do desconto}$


$V_n = \text{Valor nominal do título}$

$i = \text{taxa (no caso a taxa equivalente)}$

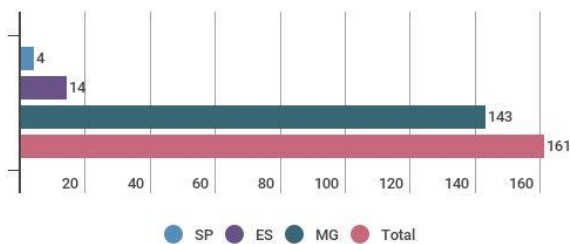
$n = \text{prazo, ou tempo de antecipação}$

- a) R\$ 5.485
- b) R\$ 5.515
- c) R\$ 4.850
- d) R\$ 4,515**
- e) R\$ 5.415

21. Observe o infográfico abaixo. Ele apresenta informações sobre o surto de uma doença que já atingiu três estados brasileiros no início deste ano. Até o dia 3 de fevereiro havia 702 casos sob investigação em cinco estados: Minas Gerais, Espírito Santo, São Paulo, Bahia e Tocantins.



Total de casos confirmados  
por estado



Os sinais e sintomas mais comuns da doença são: febre alta, calafrios, cansaço, dor de cabeça, dor muscular, náuseas e vômitos que duram, em média, três dias. Nas formas mais graves da doença, podem ocorrer icterícia, insuficiências hepática e renal, manifestações hemorrágicas e cansaço intenso.

Disponível em: <http://exame.abril.com.br/brasil/infografico-surto-de-febre-amarela-ja-atinge-tres-estados/>. Acesso em: 16 jun. 2017. (adaptado)

Assinale a alternativa que apresenta o nome da doença que tem acometido o Brasil de um surto recente, com um programa de vacinação em curso pela rede pública de saúde.

- a) Dengue
- b) Febre amarela**
- c) Cólera
- d) Sarampo
- e) Meningite

22. Diante do encolhimento sistemático da participação da indústria brasileira no Produto Interno Bruto (PIB) desde meados dos anos 80, governo e empresas tentam reverter a situação apostando em ampla modernização da atividade manufatureira, com a inserção do País na onda da **Indústria 4.0** ou da "nova revolução industrial", como prefere chamar o escritor britânico Peter Marsh.

Disponível em: <<http://www.valor.com.br/brasil/5000848/governo-e-industrias-discutem-plano-nacional-para-modernizacao-do-setor#>>. Acesso em: 15 jun. 2017. (adaptado)

Tomando por base o texto apresentado, assinale a alternativa que define corretamente o que é Indústria 4.0.

- a) A Indústria 4.0 é um conceito criado no Brasil para reformular nosso parque industrial, com a proposta de alterar os atuais produtos produzidos pelas empresas nacionais, gerando produtos de maior valor agregado.
- b) A Indústria 4.0 é um conceito que tem como foco investir em recursos e insumos alternativos, que possam ser utilizados para produzir produtos mais baratos e competitivos, diante do que é apresentado pelo mercado externo.
- c) A Indústria 4.0 é um conceito de indústria que considera a criação de fábricas inteligentes. Nela, trabalhadores, máquinas, produtos e matérias-primas trocam informações de forma instantânea ao longo do processo de fabricação.**
- d) A Indústria 4.0 é um conceito que tem como meta principal aumentar a participação da indústria nacional no Produto Interno Bruto (PIB), tornando o setor manufatureiro o principal constituinte desse índice.
- e) A Indústria 4.0 é um conceito que tem como objetivo capacitar os operários das indústrias nacionais a operarem novos equipamentos para que essas indústrias se tornem mais competitivas e conquistem novos mercados.

23. Nos últimos anos, aparelhos não tripulados já usados há muito tempo na área militar passaram a ser usados para outras finalidades, dentre elas o monitoramento de grandes áreas agrícolas.

No campo, esses equipamentos também estão sendo usados para pulverizar agroquímicos na agricultura de larga escala. Esses defensivos químicos, em geral, são pulverizados manualmente sobre as lavouras ou com o auxílio de tratores. No entanto, protótipos desses equipamentos mostraram-se eficazes ao liberar quantidades controladas de agroquímicos em áreas predeterminadas, levando em conta aspectos meteorológicos e as rotas calculadas pelo seu sistema de GPS. Desta forma, realizaram uma pulverização mais segura e eficiente, capaz de melhorar a cobertura da aplicação e a qualidade do processo de cultivo.

Disponível em: <<https://vestibular.uol.com.br/resumo-das-disciplinas/atualidades/tecnologia-uso-de-drones-dispara-e-equipamentos-prometem-mudar-o-mundo.htm>>. Acesso em: 17 jun. 2017. (adaptado)

Assinale a opção que apresenta o nome do equipamento ao qual o texto apresentado se refere.

- a) Helicópteros
- b) Drones**
- c) Pipas
- d) Aeronaves
- e) Satélites

24. Considerando que as áreas de processamento de produtos de origem vegetal e animal são críticas para a qualidade do produto final, é importante ter a máxima atenção a todos os fatores com potencial de interferir negativamente sobre a qualidade do produto.

Alguns cuidados devem ser tomados em um ambiente onde se manipula alimentos, para prevenir que as pragas entrem em contato com eles.

Sobre as práticas que devem ser adotadas para evitar que as pragas entrem em contato com os alimentos, assinale V para as alternativas verdadeiras e F para as alternativas falsas.

1. ( ) As aberturas da área de manipulação de alimentos devem ser dotadas de telas milimétricas, de 2mm, para evitar a entrada de insetos e roedores.

2. ( ) Os ralos devem possuir grelha de proteção para impedir a entrada de insetos rasteiros.
3. ( ) Os recipientes para lixo devem estar sempre com sacos plásticos e fechados, devendo o lixo ser recolhido constantemente.
4. ( ) Os sacos, fardos e caixas de alimentos devem ser colados uns aos outros e bem juntos às paredes, evitando deixar espaços em que roedores e baratas possam circular.
5. ( ) Os armários e as despensas devem ser mantidos fechados, sem resíduos de alimentos.

Agora, escolha a alternativa que apresenta a sequência correta:

- a) F,F,V,V,F
- b) F,V,F,V,F
- c) V,V,V,F,V
- d) F,F,F,V,V
- e) V,F,V,V,F

25. Com a evolução da tecnologia que permite o acesso à internet, mais pessoas puderam se conectar à rede. Em nosso tempo, todos nós podemos produzir e receber informação. As novas tecnologias de informação e comunicação possibilitaram democratizar a comunicação.

Disponível em: <<https://vestibular.uol.com.br/resumo-das-disciplinas/atualidades/desinformacao-na-era-da-informacao-o-compartilhamento-de-mentiras-e-boatos-na-internet.htm>>. Acesso em: 17 jun. 2017.

Assinale a alternativa que representa uma situação real provocada pelas redes sociais, e que **gera problemas** para muitas pessoas.

- a) As redes sociais publicam muitas informações falsas.
- b) As redes sociais publicam as fontes da informação.
- c) As redes sociais permitem acessar muitas pessoas.
- d) As redes sociais são uma fonte de notícias confiáveis.
- e) As redes sociais publicam informações elaboradas por jornalistas.

26. Em 1817, um levante no Nordeste reivindicou a Proclamação da República, a liberdade de imprensa e a separação entre os poderes Executivo, Legislativo e Judiciário.

Apesar do fracasso do levante, essa Revolução influenciaria o caminho para a independência do Brasil (1822) e a revolta da Confederação do Equador (1824), liderada por Frei Caneca.

A bandeira dos revoltosos foi adotada posteriormente como a bandeira oficial do estado em que ocorreu a revolta, como símbolo da luta do seu povo.

Disponível em: <<https://vestibular.uol.com.br/resumo-das-disciplinas/atualidades/revolucao-pernambucana-considerada-o-berco-da-democracia-brasileira-revolta-completa-200-anos.htm>>. Acesso em: 17 jun. 2017.

Assinale o nome dessa revolta, que completa 200 anos em 2017.

- a) Revolução Baiana
- b) Revolução Pernambucana**
- c) Revolução Maranhense
- d) Revolução Cearense
- e) Revolução Alagoana

27. Um relatório da Organização Mundial da Saúde publicado em setembro de 2016 concluiu que 92% da população mundial vive em locais onde a poluição do ar excede os limites estabelecidos.

O estudo recolheu amostras do ar em mais de três mil localidades rurais e urbanas pelo planeta. A qualidade do ar está piorando na maioria das cidades monitoradas e o ambiente está cada vez mais degradado. Entre 2008 e 2013, os níveis de poluição aumentaram 8%. Como os países continuam a se industrializar e se urbanizar, a tendência é que esse número aumente.

Disponível em: <<https://vestibular.uol.com.br/resumo-das-disciplinas/atualidades/poluicao-92-da-populacao-global-respira-ar-poluido.htm>>. Acesso em: 17 jun. 2017.

Assinale a opção que apresenta uma solução simples para diminuir a poluição atmosférica de uma cidade.

- a) Plantar árvores nas regiões que sofrem com poluição.**

- b) Impedir a circulação de carros nas regiões poluídas.
- c) Instalar filtros de ar movidos a carvão.
- d) Deslocar as unidades poluentes para regiões afastadas dos locais poluídos.
- e) Substituir o petróleo por fontes de energia limpa, como carvão e madeira.

28. Mesmo tendo passado o período de pico nas cotações internacionais de soja, milho, açúcar e etanol, produtores e empresas do agronegócio mantêm-se otimistas quanto à evolução dos negócios. É o que revela o Índice de Confiança do Agronegócio (IC Agro), calculado pelo Departamento do Agronegócio (Deagro) da Fiesp em parceria com a Organização das Cooperativas do Brasil (OCB).

O índice ficou em 100,5 pontos no primeiro trimestre de 2017, representando 3,9 pontos abaixo do resultado do quarto trimestre de 2016, mas acima de 100 pontos, patamar indicador de boas expectativas. O resultado do primeiro trimestre, por sinal, é 17,9 pontos superior ao de igual período do ano passado.

Disponível em: <<http://opinioao.estadao.com.br/noticias/geral,produtividade-reforca-otimismo-do-agronegocio,70001846392>>. Acesso em: 18 jun. 2017.

Assinale a alternativa que contém a opção correta acerca do principal motivo do otimismo do agronegócio.

- a) Queda da inflação.
- b) Alto desempenho da pecuária.
- c) **A supersafra 2016/2017.**
- d) Aumento do preço do leite.
- e) Baixa no preço dos fertilizantes e defensivos agrícolas.

29. A chuva continua atrasando a colheita de cana-de-açúcar na principal região produtora do Brasil, e contribuiu para a valorização dos preços do açúcar na Bolsa de Nova Iorque, nos EUA.

Segundo o presidente da Orplana, organização que representa 17 mil plantadores de cana da região Centro-Sul do Brasil, o crédito escasso e o envelhecimento dos canaviais estão entre os motivos para uma safra menor.

Segundo levantamento da União da Indústria de Cana de Açúcar (UNICA), na safra de 2017 as usinas da região Centro-Sul do País devem moer quase 600 milhões de toneladas (20 milhões a menos em comparação com a safra anterior). Da produção desta safra, 47% serão destinados à produção de açúcar e 53% à de etanol.



Disponível em: <<http://www.dci.com.br/agronegocios/chuvas-valorizam-cotacoes-do-acucar-em-ny-id631391.html>>. Acesso em: 18 jun. 2017.

Assinale a opção que apresenta o nome dos principais estados produtores de cana-de-açúcar.

- a) Rio Grande do Sul e Paraná
- b) São Paulo e Mato Grosso
- c) Mato Grosso do Sul e São Paulo
- d) São Paulo e Rio de Janeiro
- e) São Paulo e Goiás**

30. O economista Aldo Barrigosse, especialista em comércio exterior, aponta que, em 2017, Mato Grosso do Sul vem mantendo um forte ritmo nas exportações do seu agronegócio. Ele comenta que, dos cinco principais produtos vendidos pelo estado para o mercado internacional, todos são diretamente ligados ao segmento do agronegócio ou utilizam matérias-primas produzidas pelo setor.

Disponível em: <<http://g1.globo.com/mato-grosso-do-sul/noticia/ms-mantem-ritmo-forte-nas-exportacoes-do-agronegocio-aponta-especialista.ghtml>>. Acesso em: 15 jun. 2017. (Adaptado)

Assinale a alternativa que apresenta os 5 principais produtos exportados atualmente pelo Mato Grosso do Sul:

- a) Soja, cebola, cana-de-açúcar, carne bovina e mandioca.
- b) Soja, arroz, trigo, milho e feijão.
- c) Soja, algodão, laranja, amendoim e açúcar.
- d) Soja, celulose, açúcar, carne bovina e pedaços e miudezas de frango.**
- e) Soja, feijão, cana-de-açúcar, abacaxi e carne suína.



# FORMAÇÃO TÉCNICA

## Propostas de redação – SENAR e-TEC – 2017.2

### TEMA 1

Na competição por mercados, as disputas do agronegócio estão muito acirradas atualmente. Em campo, o aumento exponencial no preço dos insumos agrícolas e o protecionismo dos países desenvolvidos representam um entrave ao agronegócio nos países produtores de *commodities*, como o Brasil. Apesar disso, o agronegócio tem sido responsável por manter nossa balança comercial positiva. Mas como isso é possível? E o mais importante: como continuar produzindo de forma sustentável, lucrativa e competitiva no mercado internacional? A resposta, muito provavelmente, também está no uso intensivo de tecnologia no campo.

(Adaptado de <<http://www.dinheirorural.com.br/secao/artigo/a-tecnologia-a-servico-do-campo>>. Acesso em: 20 jun. 2017)

Com base no texto acima e nos seus conhecimentos sobre o assunto, escreva um texto dissertativo-argumentativo com no mínimo 1.500 caracteres e no máximo 2.800 caracteres sobre o seguinte tema: **O uso da tecnologia em favor do aumento da produtividade no campo.**